



## Escola Municipal "Tiradentes"

Ensino Fundamental - 1º ao 5º ano / 9 anos  
Autorizada pela Lei nº 171/75 e Portaria nº 02/80 SEE/MG de 11/12/80  
Localidade de São Caetano - Zona Rural - Cristiano Ottoni, MG - CEP: 36.426-000  
Tel: (31) 3724-1317 - E-mail: [dmecotoni@yahoo.com.br](mailto:dmecotoni@yahoo.com.br)

NOME:

SÉRIE: 5ºANO

DATA DE ENVIO: 20/07/2020

DATA DE ENTREGA: 27/07/2020

PORTUGUÊS- HABILIDADE(EF35LP03)

SEGUNDA-FEIRA 20/07/2020

### **PREVIDÊNCIA SOCIAL: ENTENDA OS CUSTOS DA APOSENTADORIA PARA A SOCIEDADE**

Envelhecer é uma das grandes conquistas da sociedade. O envelhecimento da população brasileira, assim como acontece no resto do mundo, se relaciona à melhoria do padrão de vida e aos avanços da medicina, entre outros fatores.

A Previdência Social é o sistema público que cuida da aposentadoria. É considerada como um direito social do cidadão, previsto no art. 6º da Constituição Federal de 1988. O trabalhador que contribuir mensalmente para a Previdência Social recebe uma aposentadoria depois de anos de trabalho e contribuição ao Instituto Nacional do Seguro Social (INSS).

Na prática, esse sistema também é um seguro social. Além da aposentadoria, o trabalhador tem direito a benefícios que o protegem em situações de doença ou vulnerabilidade: salário-maternidade, salário-família, auxílio-acidente, auxílio doença e pensão. Pouco mais de cem anos atrás, não havia nenhum tipo de proteção para a pessoa que ficasse impedida de gerar renda por conta da idade avançada ou problemas de saúde. (...) Em 1988, a Constituição garantiu a previdência social como um direito fundamental do cidadão. Todos os empregados com carteira de trabalho assinada são obrigados a recolher para esse sistema. Na estrutura da Previdência, os trabalhadores em idade ativa pagam a renda de aposentados e pensionistas. Quem está trabalhando hoje paga a previdência de quem já se aposentou, assim como a próxima geração pagará a de quem está trabalhando hoje.

O projeto do Governo Federal é a Reforma da Previdência, uma proposta que deve ter um impacto positivo para os cofres públicos, mas por outro lado, ele dificultará o acesso à aposentadoria para quem ainda não tem o direito ao benefício.

Os principais pontos questionáveis pela população em relação a reforma da Previdência proposta pelo governo são referentes à ter a idade mínima de 65 anos e 25 anos de contribuição e as regras iguais para homens e mulheres, pois atualmente, as mulheres se aposentam com um tempo de contribuição menor do que os homens.

<https://vestibular.uol.com.br/atualidades/previdencia-social-entenda-os-custos-da-aposentadoria-para-a-sociedade.htm>



### Escola Municipal "Tiradentes"

Ensino Fundamental - 1º ao 5º ano / 9 anos  
Autorizada pela Lei nº 171/75 e Portaria nº 02/80 SEE/MG de 11/12/80  
Localidade de São Caetano - Zona Rural - Cristiano Ottoni, MG - CEP: 36.426-000  
Tel: (31) 3724-1317 - E-mail: [dmecotoni@yahoo.com.br](mailto:dmecotoni@yahoo.com.br)

NOME:

SÉRIE: 5ºANO

DATA DE ENVIO: 20/07/2020

DATA DE  
ENTREGA: 27/07/2020

PORTUGUÊS- HABILIDADE(EF05LP10)( EF15LP03)

TERÇA-FEIRA 21/07/2020

### CONTINUAÇÃO

1 ) Assinale V para verdadeiro e F para falso:

( ) A Previdência Social é considerada como um direito social do cidadão, previsto no art. 6º da Constituição Federal de 1988.

( ) Pouco mais de cem anos atrás, não havia nenhum tipo de proteção para a pessoa que ficasse impedida de gerar renda por conta da idade avançada ou problemas de saúde.

( ) A Reforma da Previdência é uma proposta que deve ter um impacto positivo para os cofres públicos.

( ) O projeto do Governo Federal é a Reforma da Previdência, facilitará o acesso à aposentadoria para quem ainda não tem o direito ao benefício.

2 ) O que é a Previdência Social? \_\_\_\_\_

3 ) Além da aposentadoria, quais outros direitos os trabalhadores têm assegurados com a Previdência Social?

Casa própria

Salário-maternidade

Auxílio doença

Pensão

Férias de tempo indeterminado

Vale-transporte

4) Quais são os principais pontos questionáveis pela população em relação a reforma da Previdência proposta pelo governo?

5) Marque verdadeiro ou falso:

O projeto do Governo Federal é a Reforma da Previdência, uma proposta que deve ter um impacto positivo para os cofres públicos, mas por outro lado, ele dificultará o acesso à aposentadoria para quem ainda não tem o direito ao benefício

( ) verdadeiro

( ) falso



### Escola Municipal "Tiradentes"

Ensino Fundamental - 1º ao 5º ano / 9 anos  
Autorizada pela Lei nº 171/75 e Portaria nº 02/80 SEE/MG de 11/12/80  
Localidade de São Caetano - Zona Rural - Cristiano Ottoni, MG - CEP: 36.426-000  
Tel: (31) 3724-1317 - E-mail: [dmecotoni@yahoo.com.br](mailto:dmecotoni@yahoo.com.br)

NOME:

SÉRIE: 5ºANO

DATA DE ENVIO: 20/07/2020

DATA DE ENTREGA: 27/07/2020

PORTUGUÊS- HABILIDADE(EF05LP10)( EF15LP03)

QUARTA-FEIRA 22/07/2020

## Maria, Maria

É um dom, uma certa magia, Uma força que nos alerta,  
Uma mulher que merece viver e amar, Como outra qualquer do planeta.

Maria, Maria

É o som, é a cor, é o suor,

É a dose mais forte e lenta

De uma gente que ri quando deve chorar E não vive, apenas aguenta.

Mas é preciso ter força,

É preciso ter raça,

É preciso ter gana sempre, Quem traz no corpo a marca. Maria,

Maria

Mistura a dor e a alegria.

Mas é preciso ter manha,

É preciso ter graça,

É preciso ter sonho sempre. Quem traz na pele essa marca Possui a estranha mania

De ter fé na vida.

Milton Nascimento – Fernando Brant

1) As palavras podem mudar de significado dependendo do contexto que aparecem. Leia as frases abaixo, e assinale o melhor significado para as palavras em negrito:

a) "Quem traz no corpo esta **marca**."

( ) sinal aparente no corpo. ( ) Grife de roupa.

b) "Mas é preciso ter **manha**."

( ) comportamento infantil. ( ) habilidade, astúcia.

c) "E preciso ter **gana** sempre."

( ) grande força de vontade. ( ) fome.

d) "É preciso ter **graça**."

( ) beleza, elegância. ( ) nome de mulher.



2) As características atribuídas à Maria na quarta estrofe representam:

- ( a ) a força da mulher.
- ( b ) a delicadeza da mulher.
- ( c ) a mulher fragilizada.
- ( d ) a indecisão feminina.

NOME:

SÉRIE: 5ºANO

DATA DE ENVIO: 20/07/2020

DATA DE ENTREGA: 27/07/2020

PORTUGUÊS- HABILIDADE(EF05LP10)

QUINTA-FEIRA 23/07/2020

Leia o texto e responda às questões a seguir.



Autor: Carlo Frabetti  
País de origem do autor: Itália  
Tradutor: Heitor Ferraz Mello  
Páginas: 112

### O vampiro vegetariano

O senhor Lucarda acaba de se mudar para o prédio dos amigos Tomás e Lúcia. Ele é alto, magro e está sempre de preto, não fala com ninguém e parece adivinhar o pensamento das pessoas. Seus vizinhos desconfiam que ele seja um vampiro. Porém, outra vizinha, a doce e bela Camila também se torna suspeita. Com esta história, Carlo Frabetti inaugura uma série em que os vampiros são os personagens principais.

#### VOCABULÁRIO

**Tradutor:** pessoa que traduz, ou seja, passa um texto, um livro (ou uma conversa entre outras pessoas) de uma língua para outra.

1. Qual é o objetivo do texto?

---

---

---

2. O autor escreveu outro livro em que as personagens são vampiros? Justifique sua resposta com um trecho do texto.

---

---

---



### Escola Municipal "Tiradentes"

Ensino Fundamental - 1º ao 5º ano / 9 anos  
Autorizada pela Lei nº 171/75 e Portaria nº 02/80 SEE/MG de 11/12/80  
Localidade de São Caetano - Zona Rural - Cristiano Ottoni, MG - CEP: 36.426-000  
Tel: (31) 3724-1317 - E-mail: [dmeotoni@yahoo.com.br](mailto:dmeotoni@yahoo.com.br)

NOME:

SÉRIE: 5ºANO

DATA DE ENVIO: 20/07/2020

DATA DE ENTREGA: 27/07/2020

MATEMÁTICA- HABILIDADE(EF05MA08)

SEGUNDA-FEIRA 20/07/2020

#### • Calcule as multiplicações:

$$\begin{array}{r} 89 \\ \times 8 \\ \hline \end{array}$$

$$\begin{array}{r} 45 \\ \times 9 \\ \hline \end{array}$$

$$\begin{array}{r} 76 \\ \times 2 \\ \hline \end{array}$$

$$\begin{array}{r} 33 \\ \times 4 \\ \hline \end{array}$$

$$\begin{array}{r} 72 \\ \times 5 \\ \hline \end{array}$$

$$\begin{array}{r} 91 \\ \times 3 \\ \hline \end{array}$$

$$\begin{array}{r} 62 \\ \times 5 \\ \hline \end{array}$$

$$\begin{array}{r} 79 \\ \times 1 \\ \hline \end{array}$$

$$\begin{array}{r} 42 \\ \times 7 \\ \hline \end{array}$$

$$\begin{array}{r} 27 \\ \times 2 \\ \hline \end{array}$$

$$\begin{array}{r} 87 \\ \times 8 \\ \hline \end{array}$$

$$\begin{array}{r} 236 \\ \times 5 \\ \hline \end{array}$$

$$\begin{array}{r} 879 \\ \times 9 \\ \hline \end{array}$$

$$\begin{array}{r} 123 \\ \times 3 \\ \hline \end{array}$$

$$\begin{array}{r} 456 \\ \times 5 \\ \hline \end{array}$$

$$\begin{array}{r} 756 \\ \times 3 \\ \hline \end{array}$$

$$\begin{array}{r} 329 \\ \times 0 \\ \hline \end{array}$$

$$\begin{array}{r} 592 \\ \times 2 \\ \hline \end{array}$$

$$\begin{array}{r} 418 \\ \times 6 \\ \hline \end{array}$$

$$\begin{array}{r} 607 \\ \times 9 \\ \hline \end{array}$$





### Escola Municipal "Tiradentes"

Ensino Fundamental - 1º ao 5º ano / 9 anos  
Autorizada pela Lei nº 171/75 e Portaria nº 02/80 SEE/MG de 11/12/80  
Localidade de São Caetano - Zona Rural - Cristiano Ottoni, MG - CEP: 36.426-000  
Tel: (31) 3724-1317 - E-mail: [dmecotoni@yahoo.com.br](mailto:dmecotoni@yahoo.com.br)

NOME:

SÉRIE: 5ºANO

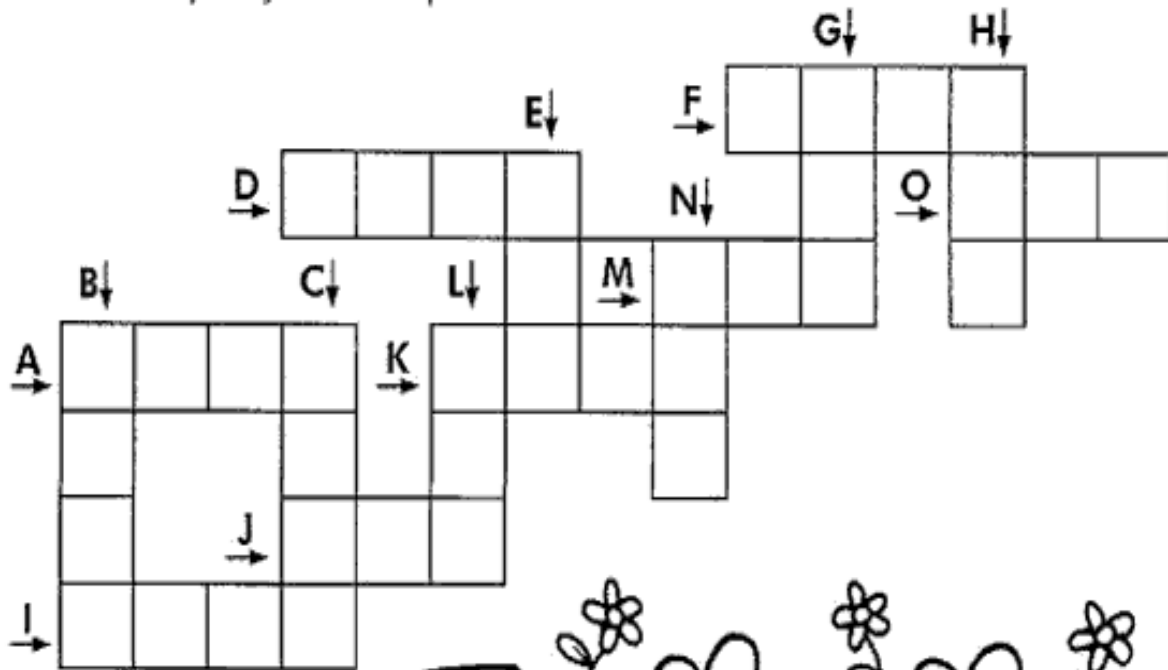
DATA DE ENVIO: 20/07/2020

DATA DE ENTREGA: 27/07/2020


MATEMÁTICA- HABILIDADE(EF05MA08)

TERÇA-FEIRA 21/07/2020

Resolva as operações no verso da folha e complete a cruzadinha.



- A)  $568 \times 4 =$
- B)  $656 \times 4 =$
- C)  $248 \times 9 =$
- D)  $536 \times 4 =$
- E)  $82 \times 5 =$
- F)  $442 \times 4 =$
- G)  $130 \times 6 =$
- H)  $420 \times 2 =$
- I)  $2\ 431 \times 2 =$
- J)  $124 \times 3 =$
- K)  $1\ 023 \times 3 =$
- L)  $44 \times 8 =$
- M)  $35 \times 4 =$
- N)  $33 \times 6 =$
- O)  $105 \times 4 =$





### Escola Municipal "Tiradentes"

Ensino Fundamental - 1º ao 5º ano / 9 anos  
Autorizada pela Lei nº 171/75 e Portaria nº 02/80 SEE/MG de 11/12/80  
Localidade de São Caetano - Zona Rural - Cristiano Ottoni, MG - CEP: 36.426-000  
Tel: (31) 3724-1317 - E-mail: [dmecotoni@yahoo.com.br](mailto:dmecotoni@yahoo.com.br)

NOME:

SÉRIE: 5º ANO

DATA DE ENVIO: 20/07/2020

DATA DE ENTREGA: 27/07/2020

MATEMÁTICA- HABILIDADE(EF05MA08)

QUARTA-FEIRA 22/07/2020

## Complete a cruzadinha com os números que faltam

8	:	4	=		18	x	3	=				
	x				:							
6	+	7	=		x	2	=		+	2	=	
	=				=					:		
		-	19	=		17				7		
			x			+				=		
			4			32	:		=			
			=			=						
50	+	26	=				:	7	=			
	x		-									
	3		31			30						
	=		=			-						
				:	5	=					36	
						=				:		
		7	x	3	=		:	7	=			
		x								=		
8	x	8	=			5						
	=					x						
		:	7	=		x	9	=				
						=						





## Escola Municipal "Tiradentes"

Ensino Fundamental - 1º ao 5º ano / 9 anos  
Autorizada pela Lei nº 171/75 e Portaria nº 02/80 SEE/MG de 11/12/80  
Localidade de São Caetano - Zona Rural - Cristiano Ottoni, MG - CEP: 36.426-000  
Tel: (31) 3724-1317 - E-mail: [dmecotoni@yahoo.com.br](mailto:dmecotoni@yahoo.com.br)

NOME:

SÉRIE: 5º ANO

DATA DE ENVIO: 20/07/2020

DATA DE ENTREGA: 27/07/2020

HISTÓRIA- HABILIDADE(EF05HI01)

QUARTA-FEIRA 22/07/2020

### A Pré-História

Podemos definir a pré-história como um período anterior ao aparecimento da escrita. Portanto, esse período é anterior há 4000 a.C., pois foi por volta deste ano que os sumérios desenvolveram a escrita cuneiforme.



Foi uma importante fase, pois o homem conseguiu vencer as barreiras impostas pela natureza e prosseguir com o desenvolvimento da humanidade na Terra. O ser humano foi desenvolvendo, aos poucos, soluções práticas para os problemas da vida. Com isso, inventando objetos e soluções a partir das necessidades.

Ao mesmo tempo foi desenvolvendo uma cultura muito importante. Esse período pode ser dividido em três fases: Paleolítico, Mesolítico e Neolítico.

A partir do texto e de seus conhecimentos responda o que se pede:

1- Qual o significado do termo Pré-História?

---

---

---

2- Quais os marcos utilizados para o início e o fim do período pré-histórico?

---

---

---

3- Procure no dicionário o significado de Cuneiforme.

---

---

---

4- Como se divide tradicionalmente a pré-história?

---

---

---





## Escola Municipal "Tiradentes"

Ensino Fundamental - 1º ao 5º ano / 9 anos  
Autorizada pela Lei nº 171/75 e Portaria nº 02/80 SEE/MG de 11/12/80  
Localidade de São Caetano - Zona Rural - Cristiano Ottoni, MG - CEP: 36.426-000  
Tel: (31) 3724-1317 - E-mail: [dmecotoni@yahoo.com.br](mailto:dmecotoni@yahoo.com.br)

NOME:

SÉRIE: 5ºANO

DATA DE ENVIO: 20/07/2020

DATA DE ENTREGA: 27/07/2020

GEOGRAFIA- HABILIDADE(EF05GE09)

TERÇA-FEIRA 21/07/2020


### Localização através da posição do Sol

Existem diferentes maneiras de se orientar, como: mapas impressos ou digitais, perguntando a outras pessoas ao longo do caminho. Elas têm em comum o fato de depender de uma referência.

Uma outra forma de se orientar no espaço é por meio da observação do Sol no céu.

Por meio da posição do Sol, determinamos os pontos cardeais e eles podem orientar nossa localização. São eles: Norte, Sul, Leste e Oeste.

A direção em que podemos ver o Sol ao amanhecer é o Leste, onde ele se posiciona ao se pôr é o Oeste. Com base na localização dos lados Leste e Oeste é possível localizar o Norte e o Sul. A direção à frente é o Norte e atrás é o Sul.



Fonte: Texto adaptado a partir dos livros didáticos: Novo Pitanguá: Ciências, 4o ano: ensino fundamental, anos iniciais 1a ed.: Moderna, 2017; Liga mundo: Ciências, 4o ano: ensino fundamental, anos iniciais 1a ed.: Saraiva, 2017.

Com base no texto: Localização através da posição do Sol, responda as questões abaixo:

A) Uma das diversas formas de orientação no espaço é por meio dos pontos cardeais.

Escreva quais são os quatro pontos cardeais?

---

---

B) Os pontos cardeais são usados para orientar nossa localização no espaço terrestre, de acordo com a posição do \_\_\_\_\_ .

C) Em qual direção podemos ver o Sol ao amanhecer?

( a ) Norte. ( c ) Leste. ( b ) Sul. ( d ) Oeste. D) Desenhe a rosa dos ventos.

D) Desenhe a rosa dos ventos.



## Escola Municipal "Tiradentes"

Ensino Fundamental - 1º ao 5º ano / 9 anos  
Autorizada pela Lei nº 171/75 e Portaria nº 02/80 SEE/MG de 11/12/80  
Localidade de São Caetano - Zona Rural - Cristiano Ottoni, MG - CEP: 36.426-000  
Tel: (31) 3724-1317 - E-mail: [dmecotoni@yahoo.com.br](mailto:dmecotoni@yahoo.com.br)

NOME:	
SÉRIE: 5ºANO	
DATA DE ENVIO: 20/07/2020	DATA DE ENTREGA: 27/07/2020
CIÊNCIAS- HABILIDADE(EF05CI04)	SEGUNDA-FEIRA 20/07/2020

## A QUALIDADE DA ÁGUA

Nem toda água serve para beber ou preparar os alimentos. A água boa para consumo humano é a água potável. Ela não tem sujeira e nem seres vivos que transmitem doenças às pessoas. A água poluída por algum tipo de sujeira não pode ser utilizada. A água contaminada por seres transmissores de doenças também deve ser evitada.

### DICAS...

As pessoas que moram na cidade geralmente recebem, em sua casa, água tratada, isto é, a água que se tornou potável nas estações de tratamento de água. Assim, basta filtrar a água para depois beber. As pessoas que moram na zona rural, ou seja, em sítios ou fazendas, recolhem a água de poços, fontes ou bicas. Por isso, devem ferver ou tratar com cloro e filtrar a água para depois consumi-la.

**Assinale a alternativa correta para cada caso:**

a) **ÁGUA POTÁVEL**

- contém sujeiras
- é boa para beber
- transmitem doenças às pessoas

b) **ÁGUA CONTAMINADA**

- pode transmitir doenças
- é boa para beber
- pode ser utilizada para preparar alimentos

c) **ÁGUA DE POÇOS, FONTES OU BICAS**

- nunca pode ser consumida.
- não precisa de nenhum cuidado para ser consumida.
- deve ser fervida ou tratada com cloro e filtrada para ser consumida.

d) **Elabore uma lista indicando de que maneira a água pode ser aproveitada pelos seres humanos.**

- \_\_\_\_\_
- \_\_\_\_\_
- \_\_\_\_\_
- \_\_\_\_\_





### Escola Municipal "Tiradentes"

Ensino Fundamental - 1º ao 5º ano / 9 anos  
Autorizada pela Lei nº 171/75 e Portaria nº 02/80 SEE/MG de 11/12/80  
Localidade de São Caetano - Zona Rural - Cristiano Ottoni, MG - CEP: 36.426-000  
Tel: (31) 3724-1317 - E-mail: [dmecotoni@yahoo.com.br](mailto:dmecotoni@yahoo.com.br)

NOME:	
SÉRIE: 5ºANO	
DATA DE ENVIO: 20/07/2020	DATA DE ENTREGA: 27/07/2020
RELIGIÃO- HABILIDADE(EF05ER02)	SEXTA-FEIRA 24/07/2020

#### RITUAIS SAGRADOS NA MATRIZ OCIDENTAL, CELEBRAÇÃO DA SANTA CEIA

Sendo os ritos celebrativos compreendidos também como a recapitulação de um acontecimento sagrado anterior, temos na celebração da Santa Ceia um memorial da última ceia de Jesus Cristo. Segundo a Bíblia, a partir deste acontecimento foi instituído este cerimonial ritualístico que é perpetuado por várias organizações religiosas cristãs, conforme as palavras de Jesus que está escrito em Lucas (22:19): "Façam isto em memória de mim." A última ceia se deu na noite de sua morte, Jesus se reuniu com seus discípulos para a ceia de comemoração da Páscoa judaica. Sabendo que sua morte estava próxima, ele pegou em um pedaço de pão e um copo de vinho e os distribuiu aos discípulos. Ele explicou que o pão representava seu corpo, que seria dado por eles. O vinho representava o sangue de Jesus, que iria estabelecer uma nova aliança entre Deus e os homens, trazendo salvação. E assim, Jesus ordenou que os discípulos repetissem essa cerimônia para lembrar dele. Sempre que se juntassem para comer o pão e o vinho, os discípulos lembrariam do sacrifício de Jesus. Desta forma, a Santa Ceia é celebrada pelos cristãos de diferentes denominações desde então.

1-Você conhece esta celebração?

---

2-Quando acontece essa celebração na sua igreja?( ) Durante o ano ( ) Na Semana Santa

3-Você já participou alguma vez, ou conhece alguém que já tenha participado dessa celebração?

---

4-Como é feita essa celebração na sua igreja?

---

5- Qual é o nome dado a essa celebração na sua igreja?

---

---



## Escola Municipal "Tiradentes"

Ensino Fundamental - 1º ao 5º ano / 9 anos  
Autorizada pela Lei nº 171/75 e Portaria nº 02/80 SEE/MG de 11/12/80  
Localidade de São Caetano - Zona Rural - Cristiano Ottoni, MG - CEP: 36.426-000  
Tel: (31) 3724-1317 - E-mail: [dmeotoni@yahoo.com.br](mailto:dmeotoni@yahoo.com.br)

NOME:

SÉRIE: 5ºANO

DATA DE ENVIO: 20/07/2020

DATA DE ENTREGA: 27/07/2020

ARTES- HABILIDADE(EF05ER02)

QUINTA-FEIRA 23/07/2020

### O QUE É DANÇA

Dança é a arte de movimentar expressivamente o corpo seguindo movimentos ritmados, em geral ao som de música. O povo primitivo iniciou a arte de dançar e a praticava em diferentes ocasiões: no período de colheitas, nos rituais aos deuses, na época das caçadas, nos casamentos, em momentos de alegria ou tristeza, ou ainda, em homenagem à mãe natureza. É considerada a mais completa das artes, pois envolve elementos artísticos como a música, o teatro, a pintura e a escultura, sendo capaz de exprimir tanto as mais simples quanto as mais fortes emoções.

O significado da dança vai além da expressão artística, podendo ser vista como um meio para adquirir conhecimentos, como opção de lazer, fonte de prazer, desenvolvimento da criatividade e importante forma de comunicação.

A dança teve forte influência nas sociedades ao longo dos tempos. Como via de socialização e disseminação de cultura, proporcionou ao mundo o conhecimento sobre a diversidade cultural dos diferentes povos em todo mundo, especialmente através das danças folclóricas, nas escolas, a dança faz parte da área de Educação Física. Como disciplina acadêmica, a dança integra diferentes cursos universitários ligados às Artes e Humanidades e também é uma modalidade amplamente praticada em academias e clubes para manutenção da saúde física e mental.

"Entrar na dança" é uma expressão popular que significa envolver-se em algum assunto, fazer parte de algum negócio arriscado.

Leio o texto e responda as perguntas:

1-O que é dança?

---

---

2-Quem iniciou a arte da dança?

---

---

3-Por que a dança é considerada a arte mais completa?

---

---

4- Por que a dança é considerada a arte mais completa?

---

---

5\_ Além da expressão artística, como a dança pode ser vista?

---

---

6\_ Que influencia a dança pode ter na sociedade?

---

---







### Escola Municipal "Tiradentes"

Ensino Fundamental - 1º ao 5º ano / 9 anos  
Autorizada pela Lei nº 171/75 e Portaria nº 02/80 SEE/MG de 11/12/80  
Localidade de São Caetano - Zona Rural - Cristiano Ottoni, MG - CEP: 36.426-000  
Tel: (31) 3724-1317 - E-mail: [dmeotoni@yahoo.com.br](mailto:dmeotoni@yahoo.com.br)

NOME:

SÉRIE: 5ºANO

DATA DE ENVIO: 20/07/2020

DATA DE ENTREGA: 27/07/2020

EDUCAÇÃO FÍSICA

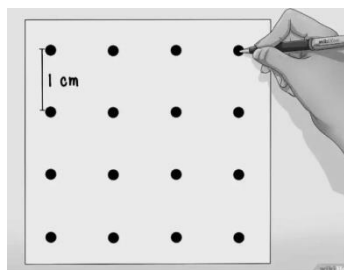
SEXTA-FEIRA 24/07/2020

**Unidade Temática:** Brincadeiras e Jogos

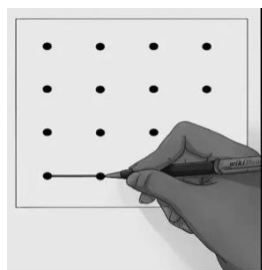
**Objeto de Conhecimento:** Brincadeiras e jogos populares do Brasil e do mundo

**Habilidade:** (EF35EF04P5)

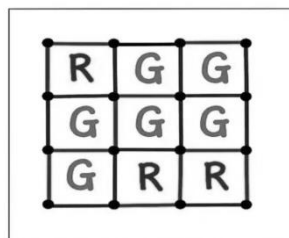
1 – O Timbiriche também conhecido como jogo dos pontinhos é um jogo de caneta (cada um com uma cor) e papel, jogado por duas pessoas. O jogo é iniciado com uma malha vazia de pontos, os jogadores revezam e em cada momento, precisam marcar linhas horizontais ou verticais entre os pontos. O jogador que completar a quarta linha do quadradinho, deve escrever a inicial do seu nome dentro dele, garantindo um ponto. O objetivo principal é formar quadradinhos, quem conseguir mais quadradinhos vence. Observe as figuras abaixo e logo depois chame alguém da sua família para jogar com você!



Jogada na vertical



Jogada na horizontal



G = 6  
R = 3

O Jogador G venceu, pois conseguiu mais quadradinhos

**Jogue utilizando os pontinhos abaixo:**

**NOMES:**

**JOGADOR 1** \_\_\_\_\_

**JOGADOR 2** \_\_\_\_\_

**NÚMERO DE QUADRADINHOS:**

**JOGADOR 1** \_\_\_\_\_

**JOGADOR 2** \_\_\_\_\_

