

Nome: _____

Data de envio: 25/05/2020

Data de entrega: 01/06/2020

Professora: Zenaide - 3º Ano.

➤ *Tarefas referentes ao dia 25/05.*

Atividades de Português

Leia o texto e responda o que se pede.

SONHO DE MENINA

Meu nome é Regina
Tenho oito anos
O meu maior sonho
É ser bailarina

Imagino-me muito linda
Numa roupa de balé
Elegante, equilibrando
Na pontinha do pé.

Oh! que grande emoção
Já posso me enxergar
Com os braços para o alto
Deslizando pelo palco.

Fico ali a bailar
Fazendo meu corpo girar
Ao som de uma canção
Numa bela apresentação.

Eu posso crer
Que este sonho vai realizar
E vou sempre agradecer
A Deus enquanto eu viver.



Solange Valadares

- 1) Qual é gênero textual? _____
- 2) Qual é o título da poesia? _____
- 3) Qual o nome da autora do texto? _____
- 4) Qual é o sonho da menina? _____

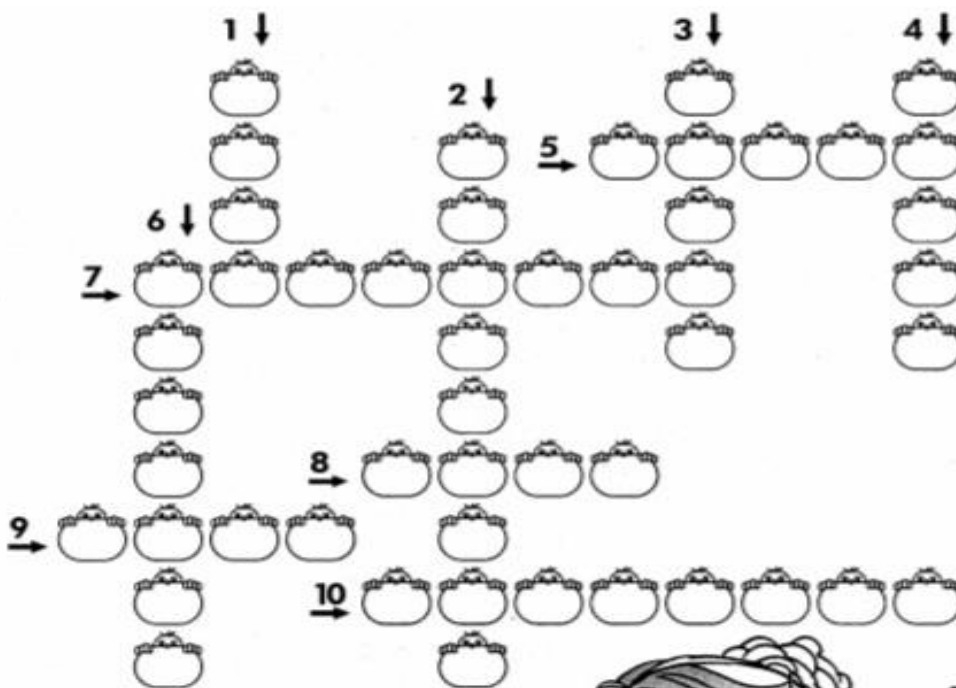
Nome: _____

Data de envio: 25/05/2020

Data de entrega: 01/06/2020

Professora: Zenaide - 3º Ano.

- 5) Como Regina se imagina? _____
- 6) Como ela poderia se enxergar? _____
- 7) O que Regina irá fazer quando seu sonho se realizar? _____
-
- 8) Complete a cruzadinha.



- 1- Venho depois do sete.
- 2- Aquela que dança balé.
- 3- O mesmo que rodar.
- 4- Contrário de alto.
- 5- Sinônimo de bonita.
- 6- Antônimo de grande.
- 7- Diminutivo de ponta.
- 8- Sinônimo de acreditar.
- 9- O nosso Pai celeste.
- 10- O mesmo que ver.



Nome: _____

Data de envio: 25/05/2020

Data de entrega: 01/06/2020

Professora: Zenaide - 3º Ano.

9) Leia e complete de acordo com o modelo.

A menina estava dançando.
A menina dançava.

a) Meu corpo estava girando.

_____.

b) O menino estava gritando.

_____.

c) O patinho estava nadando.

_____.


d) As crianças estavam brincando.

_____.

10) Procure no quadro abaixo, palavras que rimam com:

ALTO CANÇÃO BAILAR AGRADECER PÉ REGINA EQUILIBRANDO

➤ *Tarefas referentes ao dia 26/05*



Nome: _____

Data de envio: 25/05/2020

Data de entrega: 01/06/2020

Professora: Zenaide - 3º Ano.

Atividades de Ensino Religioso

UM MUNDO DE REGRAS

Respeitar pais e professores. Fazer lição de casa e trabalhos no prazo determinado. Almoçar sentado à mesa e com as mãos limpas. Tratar os colegas com respeito. Muitas das regras do “bom comportamento” são detestadas pelas crianças, que fazem questão de fugir de algumas delas. Por que é importante seguir regras? “As crianças precisam de regras, assim como os adultos. Desde pequenos aprendemos a segui-las para nos relacionarmos com os outros”, diz Cíntia Freller, psicóloga e autora do livro Histórias de Indisciplina Escolar. Você já imaginou jogar um jogo sem regras? Seria uma bagunça só, não é mesmo? Assim também acontece com a nossa vida.



Kátia Calsavara. Folhinha de S. Paulo.

1) Qual é o assunto do texto?

2) Segundo o texto, as crianças sempre cumprem as regras? Justifique.

3) Assinale o que disse a psicóloga.

- () Jogar um jogo sem regras seria uma bagunça.
() Crianças e adultos precisam de regras.
() Algumas regras são detestadas pelas crianças.

4) Trabalhando o texto.

a) Retire da reportagem duas regras.

b) Cite uma regra que você sempre segue.

c) Cite uma regra que você detesta.

Nome: _____

Data de envio: 25/05/2020

Data de entrega: 01/06/2020

Professora: Zenaide - 3º Ano.

Atividades de Matemática

Resolva os problemas.

Observação: Não se esqueçam que todo problema precisa do desenvolvimento e da resposta. Muita atenção quando forem fazer com reserva, é preciso pedir emprestado e descontar quando isso for necessário.

Estou com saudades!

Beijos da tia!

- 1) Na casa de Isabela tinham 54 pratos, sabendo que 26 quebraram ao cair no chão, quantos pratos ficaram inteiros?
- 2) Em uma estante haviam 72 livros, sabendo que Lavínia já leu 35 desses livros, quantos livros ainda faltam para ela ler?
- 3) Ricardo ganhou uma caixa com 32 bombons. Ele deu 16 desses bombons para seus irmãos. Com quantos bombons ele ficou?
- 4) O pai de Hugo Felipe marcou 23 clientes para o sábado. Sabendo que até o meio dia ele havia atendido 9 clientes, quantas pessoas ainda faltava atender até o final do dia?
- 5) Miguel ganhou 45 balas de sua tia, sabendo que ele deu 27 para suas primas, com quantas balas ele ficou?



Nome: _____

Data de envio: 25/05/2020

Data de entrega: 01/06/2020

Professora: Zenaide - 3º Ano.

- 6) Lorena quer comprar uma boneca que custa R\$82,00. Sabendo que ela já tem R\$55,00, quanto falta para que Lorena possa comprar essa boneca?

- 7) João Victor tinha 64 figurinhas, ele deu 39 para seu amigo João Pedro. Com quantas figurinhas João Victor ficou?

- 8) Beatriz comprou um livro de 73 páginas, sabendo que ela já leu 47. Quantas páginas ainda falta para Beatriz ler?

- 9) Para festa de aniversário de Vitor Hugo, sua mãe encomendou uma dúzia e meia de cajuzinhos, duas dezenas e meia de brigadeiros e três dúzias de olho de sogra. Quantos doces ela encomendou para a festa?

- 10) Hugo Vinicius tem R\$230,00. Ele quer comprar uma bicicleta que custa R\$320,00. Quantos reais ainda faltam para Hugo Vinicius comprar a bicicleta?

Nome: _____


Data de envio: 25/05/2020

Data de entrega: 01/06/2020

Professora: Zenaide - 3º Ano.

➤ *Tarefas referentes ao dia 27/05.*

11) Componha os números, procurando no caça-números o valor referente.



- a) 1 centena + 5 dezenas + 8 unidades = _____.
- b) 1 centena + 7 dezenas + 5 unidades = _____.
- c) 3 centenas + 6 dezenas + 3 unidades = _____.
- d) 7 centenas + 4 dezenas + 1 unidade = _____.
- e) 5 centenas + 3 dezenas + 2 unidades = _____.
- f) 2 centenas + 5 dezenas + 4 unidades = _____.

Nome: _____

Data de envio: 25/05/2020

Data de entrega: 01/06/2020

Professora: Zenaide - 3º Ano.

12) Decomponha os números, de acordo com o modelo.

$$136 = 100 + 30 + 6$$

$$136 = 1 \text{ centena} + 3 \text{ dezenas} + 6 \text{ unidades}$$

a) 118 _____

b) 132 _____

c) 147 _____

d) 165 _____

e) 198 _____

f) 141 _____

13) Forme os números.

2 centenas, 1 dezena e 3 unidades =

213

8 centenas, 3 dezenas e 1 unidade =

1 centena, 7 dezenas e 5 unidades =

9 centenas, 8 dezenas e 1 unidade =

2 centenas e 1 unidade =

8 centenas e 1 dezena =

4 centenas, 4 dezenas e 1 unidade =

Nome: _____

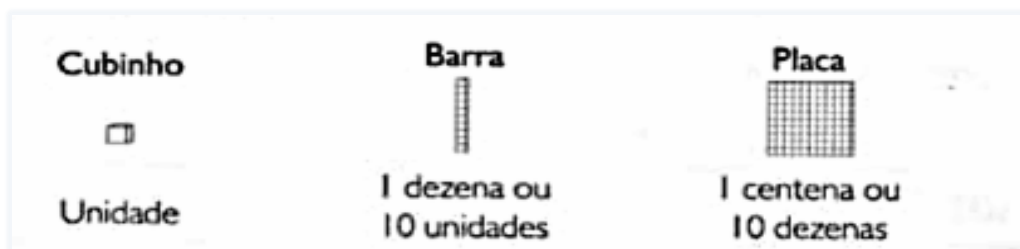
Data de envio: 25/05/2020

Data de entrega: 01/06/2020






Professora: Zenaide - 3º Ano.

➤ *Tarefas referentes ao dia 28/05.*

14) Observe e faça o que se pede.



Represente os números.

15) Componha os números como no modelo.

5 centenas + 1 dezena + 8 unidades =

$500 + 10 + 8 = 518$

6 centenas + 7 dezenas + 1 unidade =

1 centena + 9 dezenas + 7 unidades =

3 centenas + 5 dezenas + 1 unidade =

1 centena + 1 dezena + 9 unidades =

8 centenas + 1 dezena =

Nome: _____

Data de envio: 25/05/2020

Data de entrega: 01/06/2020

Professora: Zenaide - 3º Ano.

➤ *Tarefas referentes ao dia 29/05.*

A COMUNIDADE FAMILIAR

O pai, a mãe e os filhos formam uma família.

Os avós, os tios, os primos também fazem parte da comunidade familiar.

Eles são nossos parentes. A família é o primeiro grupo de pessoas com quem convivemos.

As famílias são diferentes. Em algumas, o pai e a mãe se separam e vão morar em casas diferentes.

Existem crianças que são criadas por outras pessoas.

Há ainda família na qual só tem a mãe ou o pai.



2- Responda.

a) Como são formadas as famílias? _____

b) Quem são nossos parentes? _____

c) O que é comunidade familiar? _____

d) Conte um momento marcante de sua família. _____

Nome: _____

Data de envio: 25/05/2020

Data de entrega: 01/06/2020

Professora: Zenaide - 3º Ano.

Atividades de Ciências

- 1) Na fazenda do senhor Ernesto, há muitos meses não chove. Então, ele chamou os sobrinhos e pediu para que sugerissem formas para economizar água. Veja o que eles sugeriram:
- Regar as plantas do jardim usando uma mangueira.
 - Reaproveitar a água usada para lavar a roupa e pôr nos sanitários.
 - Despreocupar-se com os pequenos vazamentos, cuidar dos grandes.

Agora responda.

- a) O que você achou das sugestões das crianças?

- b) Em sua opinião, qual foi a melhor? Por quê?

- c) Você modificaria alguma? Que modificação faria?

- d) Escreva três dicas de como economizar água.

EDUCAÇÃO FÍSICA

PROFESSORA: Jéssica Filomena dos Santos

ANO: 3º

DATA DE ENVIO: 25/05/2020

DATA DE ENTREGA: 01/06/2020

NOME ALUNO (A):

PROFESSORA REGENTE:

Atividade referente ao dia 29/05/2020

Unidade Temática: Esportes

Objeto de Conhecimento: Esportes de invasão (tais como basquetebol, futebol de campo, futsal, handebol, polo aquático, entre outros).

Habilidade: (EF35EF06P3)

1 – Observe a cena e responda:




a) Qual esporte as crianças estão praticando?

b) Você já jogou este esporte?

c) O time vencedor é o que realiza mais?

d) Cite o nome de um jogador importante desse esporte na seleção Brasileira!

2 – Crie o próprio uniforme do seu time! Use toda sua criatividade!





Nome: _____

Data de envio: 25/05/2020

Data de entrega: 01/06/2020

Professora: Zenaide - 3º Ano.