



NOME

SÉRIE: 2º ANO

PROFESSORA: LUCIENE

DATA DE ENVIO: 29/06/2020

DATA DE ENTREGA: 06/07/2020

COMPONENTE CURRICULAR: PORTUGUÊS 01/07/2020

HABILIDADE: (EF02LP14)

PRODUÇÃO DE TEXTO

OBSERVE O DESENHO E RESPONDA:



1- O QUE ELES ESTÃO FESTEJANDO?

2- QUAL É O NOME DO MENINO E DA MENINA?

3- COMO ELES ESTÃO VESTIDOS?

4- O QUE ELES ESTÃO FAZENDO?

5- QUE TIPO DE COMIDA E BEBIDAS TEM NESSA FESTA?

6- COMO ESTÁ ENFEITADA A FESTA?

7- DÊ UM TÍTULO A ESSA HISTÓRIA.

ESCOLA MUNICIPAL "TIRADENTES"
SÃO CAETANO- CRISTIANO OTONI- MG



NOME _____

SÉRIE: 2º ANO

PROFESSORA: LUCIENE

DATA DE ENVIO: 29/06/2020

DATA DE ENTREGA: 06/07/2020

COMPONENTE CURRICULAR: **PORTUGUÊS 02/07/2020**

HABILIDADE: (EF02LP03)

1) Descubra o que Lina está lendo, trocando em cada palavra o "B" pelo "P".

Bicada não é _____

Bote não é _____

Bule não é _____

Bingo não é _____

Basta não é _____

Bar não é _____

Bula não é _____



2) Observe a figura ao lado e escreva 5 frases sobre ela.



ESCOLA MUNICIPAL "TIRADENTES"
SÃO CAETANO- CRISTIANO OTONI- MG



NOME

SÉRIE: 2º ANO

PROFESSORA: LUCIENE

DATA DE ENVIO: 29/06/2020

DATA DE ENTREGA: 06/07/2020

COMPONENTE CURRICULAR: PORTUGUÊS 03/07/2020

HABILIDADE (EF12LP01X)

RR

Para que possamos ter um som forte do R no meio de uma palavra é preciso usar dois R

assim: **RR!!!!** Como nas palavras:



BARRACA



CARRO



TORRE



GARRAFA

UTILIZANDO A MESMA REGRA LEIA COM ATENÇÃO ESTAS PALAVRAS:

CORRIDA	FERRO	TERRA
BURRO	SURRA	CORREIO
TERRENO	SERROTE	BARRACA
GARRAFA	VERRUGA	JARRA
FERRADURA	BETERRABA	MARRECO

**ESCOLA MUNICIPAL "TIRADENTES"
SÃO CAETANO- CRISTIANO OTONI- MG**



NOME _____

SÉRIE: 2º ANO

PROFESSORA: LUCIENE

DATA DE ENVIO: 29/06/2020

DATA DE ENTREGA: 06/07/2020

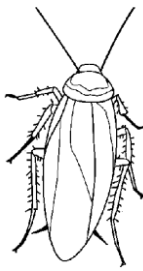


COMPONENTE CURRICULAR:

PORTUGUÊS 03/07/2020

HABILIDADE: (EF12LP01X)

1) Descubra o segredo e encaixe as palavras corretamente:

remo – corrida – arara – xícara – urubu – rabo – rio – arroz –
rua - perereca - barriga – terreno – ramo – marrom

Barata	rato	Burro
		

2) Mostre que você é capaz e forme palavras com as sílabas abaixo, que podem ser usadas mais de uma vez. As palavras têm que ter: “R” e “RR”.

PE	RE	RO
NEI	BE	CAR
AR	ROZ	A
RA	REI	TA
BA	IO	CA
U	JA	RA

**ESCOLA MUNICIPAL "TIRADENTES"
SÃO CAETANO- CRISTIANO OTONI- MG**



NOME _____

SÉRIE: 2º ANO

PROFESSORA: LUCIENE

DATA DE ENVIO: 29/06/2020

DATA DE ENTREGA: 06/07/2020

COMPONENTE CURRICULAR:
MATEMÁTICA 29/06/2020

HABILIDADE: (EF02MA28MG)

1) Decomponha os números abaixo como no modelo:

número	centenas	dezenas	unidades
235	2	3	5
186			
432			
225			
703			
126			
586			
675			
243			
896			
125			
905			

2) Complete o quadro:

100	101	102				106
107						
114				118		
121						
128					133	
			138			141
	143					148
149						155
				160		
163					168	
		172				
177			180			
184						190

3) Qual é o número?

$100 + 20 + 6 =$ _____

$100 + 80 + 1 =$ _____

$100 + 50 + 4 =$ _____

$100 + 70 + 1 =$ _____

$100 + 40 + 5 =$ _____

$100 + 40 + 8 =$ _____

$100 + 90 + 9 =$ _____

$100 + 60 + 3 =$ _____

4) Vamos compor e escrever o número:

1 centena + 3 dezenas + 8 unidades = _____

1 centena + 9 dezenas + 2 unidades = _____

1 centena + 2 dezenas + 9 unidades = _____

1 centena + 5 dezenas + 7 unidades = _____

ESCOLA MUNICIPAL "TIRADENTES"
SÃO CAETANO- CRISTIANO OTONI- MG



NOME

SÉRIE: 2º ANO

PROFESSORA: LUCIENE

DATA DE ENVIO: 29/06/2020

DATA DE ENTREGA: 06/07/2020

COMPONENTE CURRICULAR: **MATEMÁTICA 02/07/2020**

HABILIDADE: (EF02MA05)

1) Complete com os numerais que faltam em cada ficha.

100					105				
-----	--	--	--	--	-----	--	--	--	--

110								118	
-----	--	--	--	--	--	--	--	-----	--

140			143						
-----	--	--	-----	--	--	--	--	--	--

190						196			
-----	--	--	--	--	--	-----	--	--	--

2) Arme e efetue:

a) $13 + 45 =$

b) $25 + 34 =$

c) $63 + 15 =$

d) $34 + 52 =$

e) $31 + 45 =$

g) $16 + 53 =$

h) $25 + 34 =$

i) $64 + 13 =$

j) $74 + 15 =$

ESCOLA MUNICIPAL "TIRADENTES"
SÃO CAETANO- CRISTIANO OTONI- MG



NOME _____

SÉRIE: 2º ANO

PROFESSORA: LUCIENE


DATA DE ENVIO: 29/06/2020

DATA DE ENTREGA: 06/07/2020

COMPONENTE CURRICULAR:
MATEMÁTICA 03/07/2020

HABILIDADE: (EF02MA22X)

1) Observe o gráfico dos brinquedos de Artur. Cada barra corresponde a um brinquedo:



Agora, responda:

a) Quantas bolas Artur tem? _____

b) Quantos carrinhos? _____

c) Quantos jogos? _____

d) Quantos jogos Artur têm a mais que bolas? _____

e) Quantos carrinhos faltam para Artur ficar com a mesma quantidade que tem de jogos?

Q U E R O V E R V O C Ê
W A D A N D O N O S U C E S S O !



NOME

SÉRIE: 2º ANO

PROFESSORA: LUCIENE

DATA DE ENVIO: 29/06/2020

DATA DE ENTREGA: 06/07/2020

COMPONENTE CURRICULAR: **GEOGRAFIA 29/06/2020**

HABILIDADE: (EF02GE05X)

O SER HUMANO MODIFICA A PAISAGEM

1. O que foi construído pelos seres humanos nestas paisagens?

A



B




C




D



2. Esta paisagem é cultural (transformada) ou natural? Explique.



2) Observe a cena representada a seguir.



a) Quais as letras que estão indicando seres vivos presentes na cena?

R: _____

b) Quais as letras que correspondem a seres não vivos que aparecem na cena?

R: _____



ESCOLA MUNICIPAL "TIRADENTES"
SÃO CAETANO- CRISTIANO OTONI- MG



NOME

SÉRIE: 2º ANO

PROFESSORA: LUCIENE

DATA DE ENVIO: 29/06/2020




DATA DE ENTREGA: 06/07/2020

COMPONENTE CURRICULAR
RELIGIÃO / HISTÓRIA 30/06/2020

HABILIDADES: (EF02HI02X)
(EF02ER02X)

1) Nosso Deus nos deu talentos muito especiais e devemos usá-los para fazer a sua obra.



Leve cada uma das pessoas aos seus respectivos objetos.



“Guardo no coração as tuas palavras para não pecar contra ti”.

3) Deus nos ama e quer que nos amemos também...

Pinte apenas a atitude que devemos ter com nosso próximo.



ESCOLA MUNICIPAL "TIRADENTES"
SÃO CAETANO- CRISTIANO OTONI- MG



NOME

SÉRIE: 2º ANO

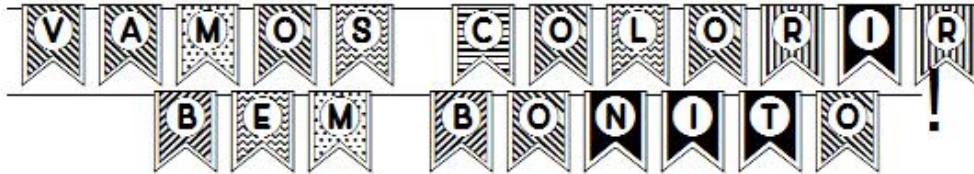
PROFESSORA: LUCIENE

DATA DE ENVIO: 29/06/2020

DATA DE ENTREGA: 06/07/2020

COMPONENTE CURRICULAR ARTES

HABILIDADES: (EF15AR01P2)



ESCOLA MUNICIPAL "TIRADENTES"
SÃO CAETANO- CRISTIANO OTONI- MG



NOME

SÉRIE: 2º ANO

PROFESSORA: LUCIENE

DATA DE ENVIO: 29/06/2020

DATA DE ENTREGA:06/07/2020

COMPONENTE CURRICULAR
EDUCAÇÃO FÍSICA 03/07/2020

HABILIDADES(EF12EF05P1)


Unidade Temática:Esportes

Objeto de Conhecimento:Esportes de Marca e Precisão

1 – Os Esportes de Marca são aqueles que comparam resultados registrados em metros, segundos ou quilos. Já os Esportes de Precisão são caracterizados pelo arremesso ou lançamento de um objeto com o objetivo de acertá-lo ou aproximá-lo de um alvo específico, estático ou em movimento.

ROLETA ESPORTE DE MARCA E PRECISÃO: COMO JOGAR

Passo 01:Pegue folhas de papel e escreva o nome dos esportes (Tênis, Golfe, Esgrima, Tiro com arco,Patinação,Atletismo e Natação). Em seguida disponha essas folhas no chão formando um círculo.



Passo 02:Após o círculo formado, pegue uma garrafinha pequena e coloque-a deitada no centro das folhas. Para jogar basta girar a garrafa, onde a “boca” parar, você deverá executar um gesto ou movimento que lembre o esporte indicado.



Realize o jogo com seus familiares e **escreva no verso dessa folha** uma frase relatando como foi a experiência! Divirta-se!

FICHA DE LEITURA

DATA _____

TÍTULO DO LIVRO _____

AUTOR _____

EDITORA _____

NÚMERO DE PÁGINAS _____

PERSONAGENS _____

O LIVRO FALA SOBRE O QUÊ _____

QUEM É O PERSONAGEM PRINCIPAL _____

A PARTE QUE EU MAIS GOSTEI ESTÁ NA PÁGINA _____

FAÇA UM LINDO DESENHO SOBRE O LIVRO QUE VOCÊ LEU.