

ESCOLA MUNICIPAL "TIRADENTES"
SÃO CAETANO- CRISTIANO OTONI- MG



NOME

SÉRIE: 2º ANO

PROFESSORA: LUCIENE

DATA DE ENVIO: 20/07/2020

DATA DE ENTREGA: 27/07/2020

HABILIDADES: (EF02LP16)

COMPONENTE CURRICULAR:
PORTUGUÊS 23/07/2020

BILHETE

POR MEIO DOS BILHETES TRANSMITIMOS MENSAGENS RÁPIDAS:



Data

27-05-05

Nome de quem vai
receber o bilhete

Andréa,

Mensagem

*Quero lhe mostrar minha
coleção de selos. Espero-a na
porta da Biblioteca, na hora
do lanche.*

Agradecimento ou
despedida

Beijinhos

Nome de quem
escreveu o bilhete

Sofia

AGORA É A SUA VEZ:

ESCREVA UM BILHETE PARA UM COLEGA CONTANDO QUE VOCÊ GANHOU UMA BICICLETA NOVA E O
CONVIDANDO A VIR A SUA CASA PARA BRINCAREM JUNTOS.



ESCOLA MUNICIPAL "TIRADENTES"
SÃO CAETANO- CRISTIANO OTONI- MG



NOME _____

SÉRIE: 2º ANO

PROFESSORA: LUCIENE

DATA DE ENVIO: 20/07/2020

DATA DE ENTREGA: 27/07/2020

HABILIDADES: (EF12LP19)

COMPONENTE CURRICULAR:
PORTUGUÊS **22/07/2020**

SUBSTITUA OS DESENHOS POR PALAVRAS E DEPOIS COPIE O POEMA NA FOLHA SEGUINTE.

COMPLETE COM PALAVRAS QUE RIMEM:


A CASA

ESSA CASA É DE CACO,
QUEM MORA NELA É O _____



ESSA CASA TÃO BONITA,
QUEM MORA NELA É A _____

ESSA CASA DE CIMENTO,
QUEM MORA NELA É O _____



ESSA CASA DE TELHA,
QUEM MORA NELA É _____



ESSA CASA DE LATA,
QUEM MORA NELA É A _____



ESSA CASA É ELEGANTE,
QUEM MORA NELA É O _____

EU DESCOBRI, DE REPENTE,
QUE NÃO FALEI DE CASA DE _____



ESCREVA DO POEMA AS PALAVRAS QUE RIMAM.

CACO RIMA COM _____

BONITA RIMA COM _____

CIMENTO RIMA COM _____

TELHA RIMA COM _____

LATA RIMA COM _____

ELEGANTE RIMA COM _____

REPENTE RIMA COM _____

Você é muito importante!



NOME

SÉRIE: 2º ANO

PROFESSORA: LUCIENE

DATA DE ENVIO: 20/07/2020

DATA DE ENTREGA: 27/07/2020

HABILIDADES: (EF15LP03) (EF12LP01X)

COMPONENTE CURRICULAR:
PORTUGUÊS 20/07/2020



Na casa de Larissa há dois cachorros: Mussum e Condessa.
Mussum é um lindo cão dálmata.

Tem os dentes bem afiados, mas ele não faz mal às pessoas,
pois é muito dócil.

Condessa, a cachorrinha pequinês, fica toda assanhada quando
jogam osso para ela.

Mussum não gosta de osso. Ele deixa o osso no chão e sai em
disparada.

Condessa pega o osso, corre para a sua casinha e fica lá bem
sossegada, roendo o seu ossinho.

Graça Boquet

1) Circule, no texto, as palavras com ss e, depois, escreva-as abaixo,
separando-as em sílabas.

_____	_____
_____	_____
_____	_____
_____	_____

2) Como se chama a dona dos cachorros?

Condessa

Laura

Larissa

3) Como é o cão Mussum?

4) Quem é Condessa?

5) Como Condessa fica quando lhe jogam um osso?

6) Onde Mussum deixa seu osso?

7) Condessa leva o osso para:

a cama. a casinha. a almofada.

8) Separe as palavras em sílabas.

Mussum	
osso	
assustador	
assanhado	
sossegado	
Condessa	

As palavras com **ss**, quando separadas em sílabas, cada **s** deve ficar em uma sílaba.
Veja exemplo: osso → os - so



ESCOLA MUNICIPAL "TIRADENTES"
SÃO CAETANO- CRISTIANO OTONI- MG



NOME

SÉRIE: 2º ANO

PROFESSORA: LUCIENE

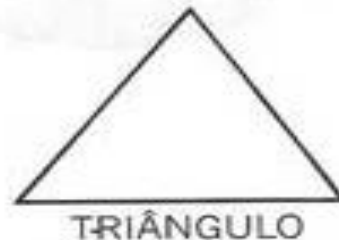

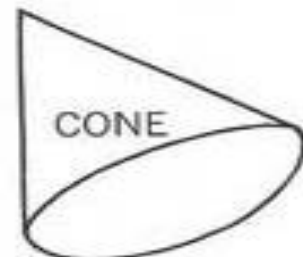
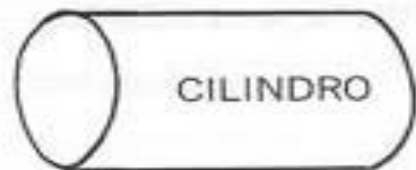
DATA DE ENVIO: 20/07/2020

DATA DE ENTREGA: 27/07/2020

HABILIDADES: (EF02MA15)

COMPONENTE CURRICULAR
MATEMÁTICA **20/07/2020**

1) Ligue os objetos às suas formas geométricas:



ESCOLA MUNICIPAL "TIRADENTES"
SÃO CAETANO- CRISTIANO OTONI- MG



NOME

SÉRIE: 2º ANO

PROFESSORA: LUCIENE

DATA DE ENVIO: 20/07/2020

DATA DE ENTREGA: 27/07/2020

HABILIDADES: (EF02MA15)

COMPONENTE CURRICULAR
MATEMÁTICA **23/07/2020**

1) Vamos colorir?

- * pinte de amarelo os objetos que têm a forma de esfera.
- * pinte de azul os objetos que têm a forma de cone.
- * pinte de vermelho os objetos que têm a forma de cilindro.
- * pinte de verde os objetos que têm a forma de cubo.



**ESCOLA MUNICIPAL "TIRADENTES"
SÃO CAETANO- CRISTIANO OTONI- MG**



NOME

SÉRIE: 2º ANO

PROFESSORA: LUCIENE

DATA DE ENVIO: 20/07/2020

DATA DE ENTREGA: 27/07/2020

HABILIDADES: (EF02MA09) (EF02MA24MG)

COMPONENTE CURRICULAR
MATEMÁTICA **24/07/2020**

1) Complete o quadro abaixo:

0	3	6	9				21				33
36					51				60		69
72		81					93			102	
111			120				132				144
147				159					171		
183					198	201					

2-Pinte de azul os numerais pares da tabela.



Observe a tabela e responda:

a) Qual foi o maior numeral par que você pintou?

b) Qual foi o menor numeral par que você pintou?

1	2	3	4	5
6	7	8	9	10
11	12	13	14	15
16	17	18	19	20
21	22	23	24	25
26	27	28	29	30
31	32	33	34	35
36	37	38	39	40
41	42	43	44	45
46	47	48	49	50
51	52	53	54	55

ESCOLA MUNICIPAL "TIRADENTES"
SÃO CAETANO- CRISTIANO OTONI- MG



NOME

SÉRIE: 2º ANO

PROFESSORA: LUCIENE

DATA DE ENVIO: 20/07/2020

DATA DE ENTREGA: 27/07/2020

HABILIDADES: (EF02HI06)

COMPONENTE CURRICULAR
HISTÓRIA **21/07/2020**

1) Nos calendários aparecem também os dias da semana. Uma semana tem 7 dias.

1º DIA	DOMINGO
2º DIA	SEGUNDA-FEIRA
3º DIA	TERÇA-FEIRA
4º DIA	QUARTA-FEIRA
5º DIA	QUINTA-FEIRA
6º DIA	SEXTA-FEIRA
7º DIA	SÁBADO

Responda:

* Que dia é hoje? _____

* Que dia da semana foi ontem? _____

* Que dia da semana será amanhã? _____

* Qual é o dia da semana que você mais gosta? _____

* Quais os dias da semana que você vem para a escola? _____

* Quais são os dias da semana que você tem Educação Física? _____

2) Que dia da semana vem antes de :

	DOMINGO
	SEXTA-FEIRA
	SEGUNDA-FEIRA
	QUINTA-FEIRA
	QUARTA-FEIRA
	SÁBADO
	TERÇA-FEIRA

ESCOLA MUNICIPAL "TIRADENTES"
SÃO CAETANO- CRISTIANO OTONI- MG



NOME

SÉRIE: 2º ANO

PROFESSORA: LUCIENE

DATA DE ENVIO: 20/07/2020

DATA DE ENTREGA: 27/07/2020

HABILIDADES: (EF02GE09)

COMPONENTE CURRICULAR GEOGRAFIA 20/07/2020

DIFERENTES PONTOS DE VISTA

A PROFESSORA ELISA LEVOU UM VASO PARA ENFEITAR A SALA DE AULA, ESCOLHEU UM LUGAR PARA ELE E DEPOIS O OBSERVOU DE DIFERENTES PONTOS DE VISTA.

VEJA COMO A PROFESSORA OBSERVOU O VASO EM CADA POSIÇÃO.



AS DIFERENTES POSIÇÕES DE ONDE A PROFESSORA ELISA OBSERVOU O VASO CHAMAM-SE PONTOS DE VISTA. A PARTIR DE CADA PONTO DE VISTA VEMOS OS OBJETOS DE MANEIRAS DIFERENTES.

LIGUE OS OBJETOS CORRESPONDENTES. VEJA O EXEMPLO DA CADEIRA.

OBJETO VISTO DO ALTO E DE CIMA PARA BAIXO.

OBJETO VISTO DE FRENTE E DO ALTO.

OBJETO VISTO DE FRENTE.

OBJETO VISTO DE FRENTE E DO ALTO.

OBJETO VISTO DE FRENTE.

OBJETO VISTO DE FRENTE E DO ALTO.

OBJETO VISTO DE FRENTE E DO ALTO.

ESCOLA MUNICIPAL "TIRADENTES"
SÃO CAETANO- CRISTIANO OTONI- MG



NOME

SÉRIE: 2º ANO

PROFESSORA: LUCIENE

DATA DE ENVIO: 20/07/2020

DATA DE ENTREGA: 27/07/2020

HABILIDADES: (EF02CI03)

COMPONENTE CURRICULAR
CIÊNCIAS 21/07/2020

CUIDAR DA HIGIENE

AS PRÁTICAS DE **HIGIENE** SÃO AÇÕES E HÁBITOS QUE AJUDAM A MANTER A SAÚDE. COM ESSAS AÇÕES E ESSES HÁBITOS, PODEMOS EVITAR MUITOS MICROORGANISMOS. ALGUNS MICROORGANISMOS PODEM CAUSAR DOENÇAS.

VAMOS LEMBRAR DE ALGUNS HÁBITOS DE HIGIENE?

*A ÁGUA DEVE SER FILTRADA OU FERVIDA ANTES DE SER CONSUMIDA.

*CORTAR AS UNHAS AJUDA A EVITAR QUE A SUJEIRA SE ACUMULE DEBAIXO DELAS.

*DEVEMOS CUIDAR PARA QUE A NOSSA CASA E A ESCOLA ESTEJAM SEMPRE LIMPAS E ORGANIZADAS.

*É IMPORTANTE LAVAR AS MÃOS DEPOIS DE BRINCAR E ANTES DE COMER.

*ESCOVAR OS DENTES DEPOIS DAS REFEIÇÕES E USAR FIO DENTAL IMPEDE A AÇÃO DE MICROORGANISMOS QUE CAUSAM AS CÁRIES.

*AO TOMAR BANHO RETIRAMOS AS SUJEIRAS E ALGUNS MICROORGANISMOS DA PELE .

*É NECESSÁRIO LAVAR BEM FRUTAS E VERDURAS PARA REMOVER A SUJEIRA E OS MICROORGANISMOS QUE PODEM CAUSAR DOENÇAS.

1) COMPLETE AS FRASES COM AS PALAVRAS DO QUADRO:

MICROORGANISMOS-REFEIÇÕES-CÁRIES-VERDURAS-BANHO-UNHAS- HIGIENE

A) DEVEM SER LAVADAS ANTES DE SER CONSUMIDAS. _____

B) PODEM SURTIR QUANDO NÃO ESCOVAMOS OS DENTES. _____

C) ANTES DELAS DEVEMOS LAVAR AS MÃOS. _____

D) DEVEM SER APARADAS PARA QUE NÃO ACUMULEM SUJEIRAS. _____

E) CONJUNTO DE HÁBITOS QUE AJUDAM A MANTER A SAÚDE. _____

F) FORMA DE REMOVER SUJEIRA E MICROORGANISMOS QUE FICAM SOBRE A PELE. _____

G) SERES VIVOS MUITO PEQUENOS QUE PODEM CAUSAR DOENÇAS. _____

ESCOLA MUNICIPAL "TIRADENTES"
SÃO CAETANO- CRISTIANO OTONI- MG



NOME

SÉRIE: 2º ANO

PROFESSORA: LUCIENE


DATA DE ENVIO: 20/07/2020

DATA DE ENTREGA: 27/07/2020

HABILIDADES: (EF15AR02AP2)

COMPONENTE CURRICULAR
ARTES 24/07/2020

✏ Ligue os números de 1 a 50 para formar a figura.



Faça com muito carinho e atenção!

ESCOLA MUNICIPAL "TIRADENTES"
SÃO CAETANO- CRISTIANO OTONI- MG



NOME

SÉRIE: 2º ANO

PROFESSORA: LUCIENE

DATA DE ENVIO: 20/07/2020

DATA DE ENTREGA: 27/07/2020

HABILIDADES: (EF02ER02X)

COMPONENTE CURRICULAR
ENSINO RELIGIOSO 21/07/2020

DEUS CRIOU O HOMEM COM AMOR!

PINTE OS CORAÇÕES QUE TENHAM ESCRITO O QUE DEUS ESPERA DE SEUS FILHOS:



MARQUE COM UM X AS ATITUDES QUE DEVEMOS TER PARA VIVER EM UM MUNDO MELHOR:

- () SER INVEJOSO E MENTIROSO.
- () VISITAR ALGUÉM QUE ESTEJA DOENTE.
- () ENSINAR AOS OUTROS O QUE APRENDO.
- () AJUDAR EM CASA.
- () ME ENVOLVER EM BRINCADEIRAS QUE MACHUCAM O AMIGO.

ESCOLA MUNICIPAL "TIRADENTES"



NOME: _____

FICHA DE LEITURA

DATA _____

TÍTULO DO LIVRO _____

AUTOR _____

EDITORA _____

NÚMERO DE PÁGINAS _____

PERSONAGENS _____

O LIVRO FALA SOBRE O QUÊ _____

QUEM É O PERSONAGEM PRINCIPAL _____

A PARTE QUE EU MAIS GOSTEI ESTÁ NA PÁGINA _____

FAÇA UM LINDO DESENHO SOBRE O LIVRO QUE VOCÊ LEU.

ESCOLA MUNICIPAL "TIRADENTES"
SÃO CAETANO- CRISTIANO OTONI- MG



NOME

SÉRIE: 2º ANO

PROFESSORA: MICHELE

DATA DE ENVIO: 20/07/2020

DATA DE ENTREGA: 27/07/2020

HABILIDADES: (EF02ER02X)

COMPONENTE CURRICULAR
EDUCAÇÃO FÍSICA 24/07/2020


Unidade Temática: Esportes

Objeto de Conhecimento: Esportes de precisão (tais como tiro com arco, golfe, bocha, entre outros).


Habilidade: (EF12EF05P2)

PETELECO - TAMPINHA NO ALVO: COMO BRINCAR


Passo 01: Para fazer essa atividade, você vai precisar de giz, carvão, ou outro objeto que dê para riscar o chão. Você também pode utilizar fita crepe ou durex colorido. Faça o desenho abaixo no chão:



tampinhas dentro do retângulo. No exemplo abaixo o jogador da tampinha preta venceu!



Passo 02: Depois de desenhar o retângulo com uma distância de mais ou menos um metro das duas linhas, você vai precisar de 8 tampinhas. Sendo 4 para cada jogador, as tampinhas devem ser de duas cores, uma cor diferente para cada jogador. Coloque as tampinhas atrás das linhas, como o desenho abaixo:



Agora Responda:

A) Quem jogou com você?

B) Quem venceu a partida?

Passo 03: O objetivo do jogo é você tentar acertar as tampinhas dentro do retângulo com um "peteleco" (um toque utilizando os dedos polegar e o indicador). As jogadas são alternadas, cada momento um joga a sua tampinha. O lançamento só vale se a tampinha estiver atrás da linha. Vence quem conseguir acertar o maior número de