



ESCOLA MUNICIPAL "MONSENHOR RAUL COUTINHO"  
ATIVIDADES 1º ANO – PROFESSORAS DIANE E NATANAELA

ALUNO: \_\_\_\_\_

DATA DE EMISSÃO: 14/09/2020

DATA DE DEVOLUÇÃO: 21/09/2020

Componente curricular: Língua Portuguesa

Unidade temática: Escrita / Análise linguística

Objeto de conhecimento: Correspondência fonema – grafema / Construção do sistema alfabético / Conhecimento do alfabeto do português do Brasil

Habilidade: (EF01LP03), (EF01LP06), (EF01LP07) (EF01LP08), (EF01LP09)

Peça um adulto que leia o texto para que você consiga realizar a atividade abaixo:

O GATINHO AZUL

O GATINHO VIU A LATA DE TINTA PERTO DA MESA.

DE REPENTE O RATINHO PASSOU LIGEIRO E SUBIU NA MESA.

O GATINHO FOI ATRÁS E DEU UM BOTE!

MAS... PLOFT!!!

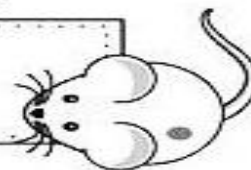
O GATINHO CAIU DENTRO DA LATA DE TINTA AZUL.



ISABEL CRISTINA S. SOARES

1 - ESCREVA ABAIXO O TÍTULO DO TEXTO.

\_\_\_\_\_



2 - OS PERSONAGENS DO TEXTO SÃO:

( ) A LATA E O GATINHO

( ) O GATINHO E O RATINHO

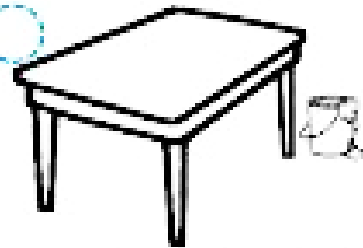
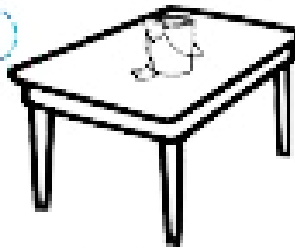
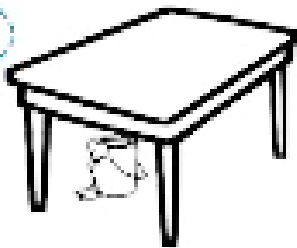
3 - PASSAR LIGEIRO É O MESMO QUE:

PASSAR DEVAGAR



PASSAR DEPRESSA

---



4 - O GATINHO VIU:



5 - QUEM SUBIU NA MESA FOI:



6 - QUEM CAIU NA LATA DE TINTA FOI:



7 - "PLOFT", REPRESENTA:

O BARULHO DA QUEDA DO GATO DENTRO DA LATA DE TINTA.

O BARULHO DO PULO DO GATO NA MESA.

Com a ajuda do responsável faça o que se pede:

8 - ESCREVA OS NOMES DOS DESENHOS E ESCREVA O NÚMERO DE LETRAS.



---

9 - NUMERE AS CENAS DE ACORDO COM O TEXTO.



**Componente curricular:** Matemática

**Unidade temática:** Números


**Objeto de conhecimento:** Leitura, escrita e comparação de números naturais (até 100) / Reta numérica.

**Habilidade:** (EF01MA05A)

Escreva o número que está entre:



Agora escreva o número que vem antes.



Coloque os números no quadro valor de lugar.



**Componente curricular:** Matemática

**Unidade temática:** Números

**Objeto de conhecimento:** Leitura, escrita e comparação de números naturais (até 100) / Reta numérica.

**Habilidade:** (EF01MA05A)

O que vem antes? O que vem depois? Escreva os vizinhos dos numerais.



Complete com os números que faltam:



Arme as operações, faça as adições e escreva os resultados nas casinhas.

$$\begin{array}{|c|c|} \hline D & U \\ \hline 3 & 0 \\ \hline \end{array} + \begin{array}{|c|} \hline U \\ \hline 5 \\ \hline \end{array} = \begin{array}{|c|c|} \hline D & U \\ \hline 3 & 5 \\ \hline \end{array} \quad \begin{array}{|c|c|} \hline 30 \\ + 5 \\ \hline 35 \\ \hline \end{array}$$

$$\begin{array}{|c|c|} \hline D & U \\ \hline 3 & 0 \\ \hline \end{array} + \begin{array}{|c|} \hline U \\ \hline 6 \\ \hline \end{array} = \begin{array}{|c|c|} \hline D & U \\ \hline & \\ \hline \end{array} \quad \square$$

$$\begin{array}{|c|c|} \hline D & U \\ \hline 3 & 0 \\ \hline \end{array} + \begin{array}{|c|} \hline U \\ \hline 7 \\ \hline \end{array} = \begin{array}{|c|c|} \hline D & U \\ \hline & \\ \hline \end{array} \quad \square$$

$$\begin{array}{|c|c|} \hline D & U \\ \hline 3 & 0 \\ \hline \end{array} + \begin{array}{|c|} \hline U \\ \hline 8 \\ \hline \end{array} = \begin{array}{|c|c|} \hline D & U \\ \hline & \\ \hline \end{array} \quad \square$$

$$\begin{array}{|c|c|} \hline D & U \\ \hline 3 & 0 \\ \hline \end{array} + \begin{array}{|c|} \hline U \\ \hline 9 \\ \hline \end{array} = \begin{array}{|c|c|} \hline D & U \\ \hline & \\ \hline \end{array} \quad \square$$



**Componente curricular:** Matemática


**Unidade temática:** Números

**Objeto de conhecimento:** Operações com números naturais

**Habilidade:** (EF01MA08A)

**Resolva as continhas, observe o resultado e cora de acordo com as orientações abaixo:**

**Resultado:** 1-branco, 2-verde, 3-vermelho,4-amarelo,5-azul claro



**Componente curricular:** Geografia

**Unidade temática:** O caminho que percorremos

**Objeto de conhecimento:** Descrever características observadas

**Habilidade:** (EF01GE01)

Os caminhos que percorremos.

Faça a atividade do livro de geografia 1 e 2 da página 91 e cole no espaço abaixo:

O caminho de Talita

Faça a atividade número 1 do livro de geografia, página 93 e cole no espaço abaixo:





ESCOLA MUNICIPAL "MONSENHOR RAUL COUTINHO"

Aluno(a) : \_\_\_\_\_

Turma: 1º MACHADO DE ASSIS

Professor: Pablo Zebal

Data de emissão: 14/09/2020

Data de devolução: 21/09/2020

- Componente curricular – EDUCAÇÃO FÍSICA.
- Unidade temática – GINÁSTICAS.
- Objeto de conhecimento – GINÁSTICA GERAL.
- Habilidade: EF12EF08
- 
- 1- Vamos completar o nome das modalidades abaixo, colocando as letras que faltam.
  - ARGOLAS, BARRA FIXA, CAVALO COM ALÇA, SOLO, BARRAS ASSIMÉTRICAS, TRAVE, BARRAS PARALELAS.

