

ESCOLA MUNICIPAL "TIRADENTES"
SÃO CAETANO- CRISTIANO OTONI- MG



NOME

SÉRIE: 1º ANO

PROFESSORA: LUCIENE

DATA DE ENVIO: 29/06/2020

DATA DE ENTREGA: 06/07/2020

COMPONENTE CURRICULAR **HISTÓRIA 30/06/2020**

HABILIDADES : (EF01HI01)

HISTÓRIA DA MINHA VIDA

TODOS NÓS TEMOS UMA HISTÓRIA.

A SUA COMEÇOU NO DIA EM QUE VOCÊ NASCEU.

AGORA RESPONDA, OU PEÇA AJUDA A UM ADULTO DA SUA FAMÍLIA, PARA RESPONDER AS PERGUNTAS SOBRE A HISTÓRIA DE SUA VIDA.

A) EM QUE ANO VOCÊ NASCEU?



B) EM QUE DIA VOCÊ NASCEU?

C) EM QUE MÊS VOCÊ NASCEU?

D) VOCÊ NASCEU DURANTE O DIA OU A NOITE?



E) A QUE HORAS VOCÊ NASCEU?



F) QUANTO VOCÊ PESAVA QUANDO NASCEU?



G) QUANTO VOCÊ MEDIA?



**ESCOLA MUNICIPAL "TIRADENTES"
SÃO CAETANO- CRISTIANO OTONI- MG**



NOME

SÉRIE: 1º ANO

PROFESSORA: LUCIENE

DATA DE ENVIO: 29/06/2020

DATA DE ENTREGA:06/07/2020

COMPONENTE CURRICULAR **GEOGRAFIA 29/06/2020**


HABILIDADES :(EF01GE06)

DIFERENTES MORADIAS

EXISTEM VÁRIOS TIPOS DE MORADIAS E ELAS NÃO SÃO IGUAIS, ISTO ACONTECE PORQUE AS PESSOAS VIVEM DE FORMAS DIFERENTES E EM LUGARES DIFERENTES.

ALGUMAS PESSOAS MORAM EM CASAS TÉRREAS, OUTRAS EM SOBRADOS OU EM PRÉDIOS.

EXISTEM POVOS COM OUTROS COSTUMES QUE UTILIZAM DIFERENTES MORADIAS, COMO POR EXEMPLO, OS ÍNDIOS DE ALGUMAS TRIBOS QUE MORAM EM OCAS FEITAS DE PALHAS E VARAS, OS ESQUIMÓS, QUE SÃO HABITANTES DE LUGARES GELADOS, VIVEM EM IGLUS CONSTRUÍDOS COM BLOCOS DE GELO, OUTRAS PESSOAS MORAM EM PALAFITAS, QUE SÃO CASAS CONSTRUÍDAS SOBRE ESTACAS DE MADEIRA NAS MARGENS DOS RIOS.



ESCREVA O NOME DE CADA TIPO DE MORADIA:



ESCOLA MUNICIPAL "TIRADENTES"
SÃO CAETANO- CRISTIANO OTONI- MG



NOME

SÉRIE: 1º ANO

PROFESSORA: LUCIENE

DATA DE ENVIO: 29/06/2020

DATA DE ENTREGA: 06/07/2020

COMPONENTE CURRICULAR **ARTES 03/07/2020**

HABILIDADES: (EF15AR01P1)

PINTE, RECORTE E MONTE A CASA AQUI.

ESCOLA MUNICIPAL "TIRADENTES"
SÃO CAETANO- CRISTIANO OTONI- MG



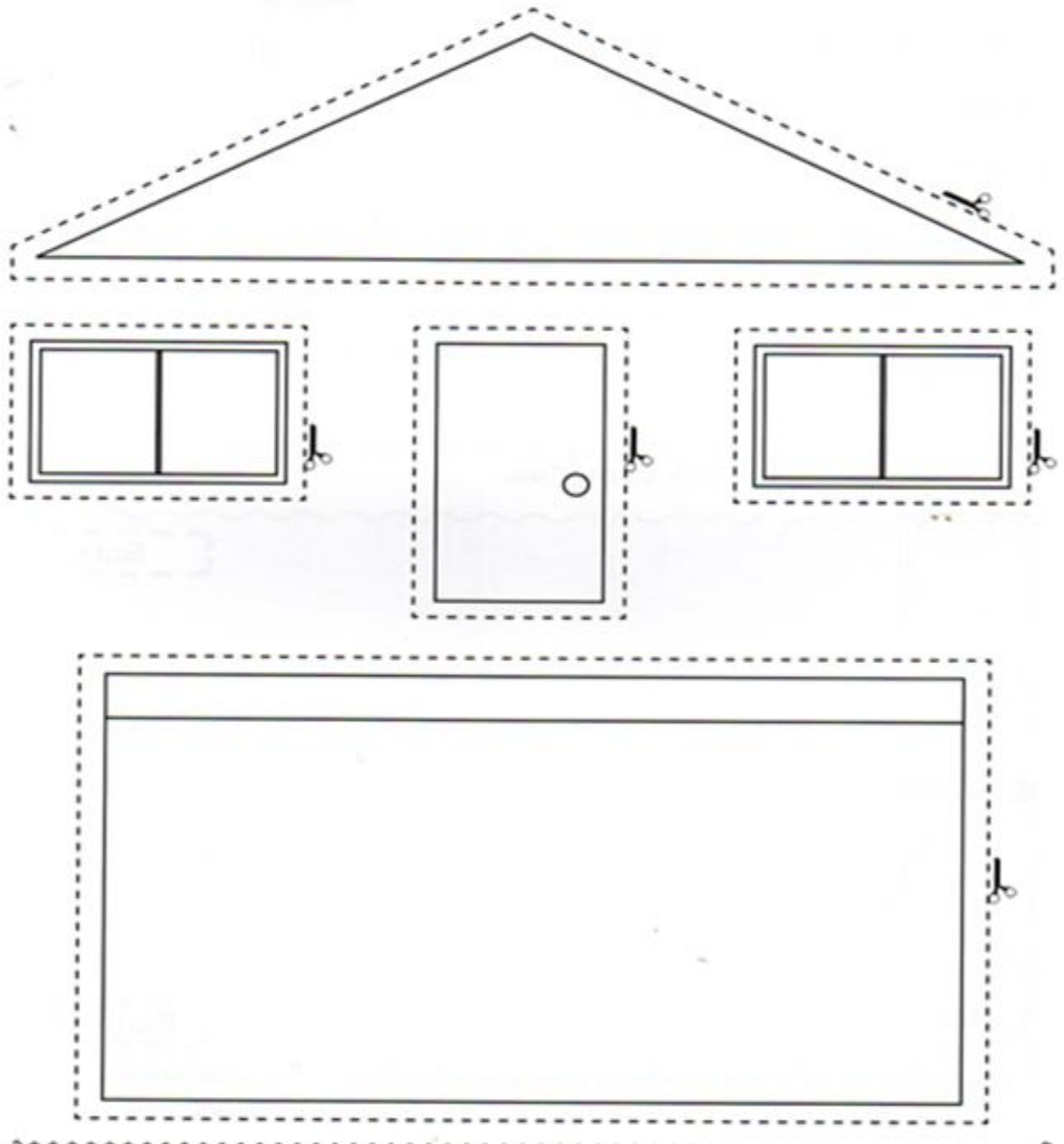
NOME

SÉRIE: 1º ANO

PROFESSORA: LUCIENE

DATA DE ENVIO: 29/06/2020

DATA DE ENTREGA:06/07/2020



ESCOLA MUNICIPAL "TIRADENTES"
SÃO CAETANO- CRISTIANO OTONI- MG



NOME

SÉRIE: 1º ANO

PROFESSORA: LUCIENE

DATA DE ENVIO: 29/06/2020


DATA DE ENTREGA: 06/07/2020

COMPONENTE CURRICULAR **RELIGIÃO** 30/06/2020

HABILIDADES: (EF01ER06X)

EM NOSSA CASA, ESTAMOS PROTEGIDOS DO SOL E DA CHUVA.

DESENHE QUEM MORA NA SUA CASA.



ESCOLA MUNICIPAL "TIRADENTES"
SÃO CAETANO- CRISTIANO OTONI- MG



NOME _____

SÉRIE: 1º ANO

PROFESSORA: LUCIENE

DATA DE ENVIO: 29/06/2020

DATA DE ENTREGA: 06/07/2020

COMPONENTE CURRICULAR PORTUGUÊS 01/07/2020

HABILIDADES: (EF01LP05X)

- COMPLETE AS PALAVRAS COM CA- CO - CU.
- ESCREVA QUANTAS LETRAS ELA TEM DENTRO DO QUADRADINHO



__ FÉ



__ _ _



__ SA



__ LA



__ VALO



__ E __



__ MELO



__ NETA



__ NUDO



__ MISA



__ PO



__ XA

LIGUE AS FIGURAS CUJOS NOMES COMEÇAM COM A LETRA "C".



CAJU



COPO



BOCA



CADEADO



VACA

NOME: _____

ESCOLA MUNICIPAL "TIRADENTES"
SÃO CAETANO- CRISTIANO OTONI- MG



NOME

SÉRIE: 1º ANO

PROFESSORA: LUCIENE

DATA DE ENVIO: 29/06/2020


DATA DE ENTREGA: 06/07/2020


COMPONENTE CURRICULAR PORTUGUÊS 02/07/2020


HABILIDADES: (EF01LP05X)


C CA CO
CU

PINTE A SÍLABA INICIAL DE CADA DESENHO


CA CU CO


CO CU CA


CU CO CA


CO CA CU

ESCOLA MUNICIPAL "TIRADENTES"
SÃO CAETANO- CRISTIANO OTONI- MG



NOME

SÉRIE: 1º ANO

PROFESSORA: LUCIENE

DATA DE ENVIO: 29/06/2020

DATA DE ENTREGA: 06/07/2020

COMPONENTE CURRICULAR PORTUGUÊS 03/07/2020

HABILIDADES: (EF15LP13)

1) OUÇA ATENTAMENTE A PARLENDA ABAIXO:

A CASINHA DA VOVÓ

A CASINHA DA VOVÓ
CERCADINHA DE CIPÓ
O CAFÉ ESTÁ DEMORANDO
COM CERTEZA NÃO TEM PÓ.



2. A CASINHA É:

() DA MAMÃE
() DO VOVÓ

() DA VOVÓ
() DO PAPAÍ

3. VOVÓ ESTÁ PREPARANDO:



4. O MOTIVO DA DEMORA DO CAFÉ
POSSIVELMENTE É:

() ACABOU O GÁS
() NÃO TEM AÇUCAR
() ACABOU O PÓ

5. A CASINHA DA VOVÓ É:

() CERCADINHA DE FLORES
() CERCADINHA DE ROSAS
() CERCADINHA DE CIPÓ

ESCOLA MUNICIPAL "TIRADENTES"
SÃO CAETANO- CRISTIANO OTONI- MG



NOME

SÉRIE: 1º ANO

PROFESSORA: LUCIENE


DATA DE ENVIO: 29/06/2020

DATA DE ENTREGA: 06/07/2020

COMPONENTE CURRICULAR MATEMÁTICA 02/07/2020

HABILIDADES: (EF01MA14)

PINTE COM A MESMA COR AS FORMAS IGUAIS E DEPOIS
REGISTRE A QUANTIDADE DE CADA UMA:



TRIÂNGULO	
CÍRCULO	
QUADRADO	
RETÂNGULO	



ESCOLA MUNICIPAL "TIRADENTES"
SÃO CAETANO- CRISTIANO OTONI- MG



NOME _____

SÉRIE: 1º ANO

PROFESSORA: LUCIENE

DATA DE ENVIO: 29/06/2020

DATA DE ENTREGA: 06/07/2020

COMPONENTE CURRICULAR **MATEMÁTICA 29/06/2020**

HABILIDADES: (EF01MA06X)



	+		=	_____
	+		=	_____
	+		=	_____
	+		=	_____
	+		=	_____
	+		=	_____
	+		=	_____

Complete as séries corretamente:

0	○	○	○	○	5
6	○	○	○		



NOME

SÉRIE: 1º ANO

PROFESSORA: LUCIENE

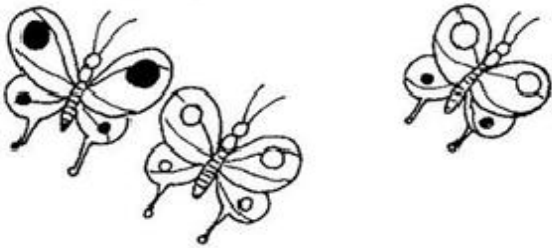
DATA DE ENVIO: 29/06/2020

DATA DE ENTREGA: 06/07/2020


COMPONENTE CURRICULAR MATEMÁTICA 03/07/2020

HABILIDADES: (EF01MA06X)


RESOLVA AS SUBTRAÇÕES




$3 - 1 = 2$




$4 - 1 =$




$6 - 3 =$




$8 - 5 =$




$5 - 1 =$



$2 - 1 =$



$9 - 4 =$



$5 - 5 =$

**ESCOLA MUNICIPAL "TIRADENTES"
SÃO CAETANO- CRISTIANO OTONI- MG**



NOME _____

SÉRIE: 1º ANO

PROFESSORA: LUCIENE

DATA DE ENVIO: 29/06/2020

DATA DE ENTREGA: 06/07/2020

COMPONENTE CURRICULAR **CIÊNCIAS 01/07/2020**

HABILIDADES: (EF02CI04)

PROCURE NO QUADRO ABAIXO NOMES DE SERES VIVOS E DOS SERES NÃO-VIVOS CONFORME OS DESENHOS.



G	A	T	O	E	P	F	G	H
I	J	C	A	N	E	T	A	K
L	M	N	O	P	D	Q	R	S
C	A	C	H	O	R	R	O	U
B	A	L	Ã	O	A	V	X	Y
W	B	O	N	E	C	A	Z	A
C	D	S	A	P	O	E	F	G
H	I	M	E	N	I	N	A	J
K	L	M	N	O	P	Q	R	S



ESCREVA OS NOMES DOS SERES VIVOS: _____

ESCREVA OS NOMES DOS SERES NÃO-VIVOS: _____

ESCOLA MUNICIPAL "TIRADENTES"
SÃO CAETANO- CRISTIANO OTONI- MG



NOME

SÉRIE: 1º ANO

PROFESSORA: MICHELE

DATA DE ENVIO: 29/06/2020

DATA DE ENTREGA:06/07/2020

COMPONENTE CURRICULAR **EDUCAÇÃO FÍSICA 01/07/2020**

HABILIDADES(EF12EF05P1)


Unidade Temática:Esportes

Objeto de Conhecimento:Esportes de Marca e Precisão

1 – Os Esportes de Marca são aqueles que comparam resultados registrados em metros, segundos ou quilos. Já os Esportes de Precisão são caracterizados pelo arremesso ou lançamento de um objeto com o objetivo de acertá-lo ou aproximá-lo de um alvo específico, estático ou em movimento.

ROLETA ESPORTE DE MARCA E PRECISÃO: COMO JOGAR

Passo 01:Pegue folhas de papel e escreva o nome dos esportes (Tênis, Golfe, Esgrima, Tiro com arco,Patinação,Atletismo e Natação). Em seguida disponha essas folhas no chão formando um círculo.



Passo 02:Após o círculo formado, pegue uma garrafinha pequena e coloque-a deitada no centro das folhas. Para jogar basta girar a garrafa, onde a “boca” parar, você deverá executar um gesto ou movimento que lembre o esporte indicado.



Realize o jogo com seus familiares e **escreva no verso dessa folha** uma frase relatando como foi a experiência! Divirta-se!

FICHA LITERÁRIA



ALUNO (A): _____ DATA: ___/___/___

LIVRO: _____

AUTOR: _____

FAÇA UM DESENHO DA PARTE DA HISTÓRIA QUE VOCÊ MAIS GOSTOU:

A large, empty rounded rectangle with a thin black border, intended for the student to draw a scene from the book they read.